

نمونه پیشنهادی شماره: یک	به نام خدا	وزارت آموزش و پرورش
نام و نام خانوادگی:	اداره کل آموزش و پرورش استان آذربایجان شرقی	نام آموزشگاه:
طراح: شهلا عیوضی	آزمون هماهنگ درس مطالعات اجتماعی پایه نهم خرداد ماه ۱۳۹۵	
مدت امتحان: ۸۰ دقیقه	تاریخ امتحان: ۹۵/۳/...	ساعت امتحان: ۱۰ صبح
	تعداد صفحه: ۶	صفحه: ۱

بخش الف: (اجباری) دانش آموزان عزیز با آرزوی موفقیت برای شما، لطفاً به همه سوالات فصل هفتم تا دوازدهم پاسخ دهید.

فصل ۷	۱	در سال ۱۳۰۴ برکناری قاجاریه از حکومت توسط مجلس موسسان صورت گرفت. ص <input type="checkbox"/> غ <input type="checkbox"/>	۰/۵
	۲	هریک از توضیحات زیر مربوط به کدام قرارداد و یا کودتا در تاریخ سیاسی ایران می باشد؟ (قرارداد ۱۹۰۷ - قرارداد ۱۹۱۹ - عهدنامه پاریس - کودتای ۲۸ مرداد ۱۳۳۲ - کودتای ۱۲۹۹) - واحد هایی از ارتش به فرماندهی سرلشکر زاهدی با اشغال مراکز مهم پایتخت دولت دکتر مصدق را سرنگون کردند - انگلستان و روسیه برای مقابله با آلمان و متحدانش به جای رقابت با یکدیگر همکاری و ایران را میان خود تقسیم کردند. - اداره امور نظامی و مالی ایران در اختیار کارشناسان نظامی و مالی انگلستان قرار می گرفت. - احمد شاه مجبور شد سید ضیاء الدین طباطبایی را به نخست وزیری و رضا خان را به فرماندهی کل قوا منصوب کند	۱
	۳	- نقش روشنفکران در انقلاب مشروطه را توضیح دهید:	۱
فصل ۸	۱	این جمله از کیست: ((این انقلاب در هیچ کجای جهان بی نام امام خمینی شناخته شده نیست.)) الف) آیت الله مطهری <input type="checkbox"/> ب) آیت الله خامنه ای <input type="checkbox"/> ج) آیت الله دکتر بهشتی <input type="checkbox"/> د) دکتر محمد جواد باهنر <input type="checkbox"/>	۰/۵
	۲	کوتاه پاسخ دهید: - هدف شاه از برگزاری همه پرسی اصول شش گانه چه بود؟ - کدام روحانی با تصویب نامه انجمن های ایالتی و ولایتی مخالفت کرد و سرانجام تصویب نامه مذکور چه شد؟	۱
	۳	چگونه انقلاب اسلامی با وجود ترور گسترده شخصیت های نظام جمهوری اسلامی به سیر خود ادامه داده است؟ (۲ مورد)-	۱

۰/۵	خانواده اولین و مهم ترین کانون اجتماعی شدن فرداست. ص <input type="checkbox"/> غ <input type="checkbox"/>	۱	فصل ۹
۱	جملات زیر در توضیح کدام یک از ویژگی های مشترک جامعه ایرانی (عناصر مهم هویت ملی) بیان شده است؟ (سرزمین، دین، تاریخ و فرهنگ، زبان مشترک، انقلاب اسلامی) الف) باعث ادامه حیات یک ملت می شود و ارزشی متفاوت و احساسی خاص به وجود می آورد. ب) فرهنگ، عقاید، ارزش، نظام سیاسی و قوانین در ایران از آن نشأت میگیرد. ج) میراث فرهنگی با آن آموخته میشود و انتقال مییابد و عامل وحدت اقوام بوده است. د) حکومت های ترک تبار و اقوام مهاجم چون مغول و تیموریان سخت تاثیر آن قرار گرفتند.	۲	
۱	منظور از ویژگی های انتسابی و اکتسابی چیست؟	۳	
۰/۵	یکی از عواملی که موجب سازگاری و آرامش در خانواده می شود، انتخاب صحیح همسر است. ص <input type="checkbox"/> غ <input type="checkbox"/>	۱	فصل ۱۰
۱	مقایسه کنید: مزایا معایب خانه سالمندان مهد کودک	۲	
۱	الف) چه کارهایی به سازگاری زن و شوهر کمک می کند: رعایت اخلاق و آداب همسرمداری و ب) در چه دوره ها یا مراحل زندگی انسان ها نیاز به مراقبت دارند؟ در آغاز زندگی (نوزادی) و	۳	
۰/۵	۱- ولایت به معنای سرپرستی است. ص <input type="checkbox"/> غ <input type="checkbox"/>	۱	فصل ۱۱
۱	کوتاه پاسخ دهید. - چرا حق حاکمیت انسان از آن خداست؟ - دو نمونه از تکالیف شهروندی را بنویسید:	۲	

		۳	الف) مشارکت سیاسی از چه راه هایی صورت می گیرد؟ (دو مورد) ب) شهروندان حق دارند از تامین اجتماعی در چه مواردی استفاده کنند؟ (دو مورد)	۱
۰/۵		۱	تقسیم کار و هماهنگی و همکاری میان اعضای خانواده از راهکارهای کمک به بهره وری است. ص <input type="checkbox"/> غ <input type="checkbox"/>	فصل ۱۲
۱		۲	دیدگاه اسلام در هریک از موارد زیر را بیان کنید: -طبیعت و منابع طبیعی -اقتصاد و تولید	۱

بخش ب: (اختیاری) دانش آموز عزیز لطفا در این بخش فقط دو فصل را انتخاب کنید و به سوالات همان دو فصل پاسخ دهید (دقت کنید به بیش از دو فصل پاسخ ندهید. زیرا در این صورت به ترتیب پاسخ های سوالات دو فصل تصحیح و بقیه حذف می شود.)

۱		۳	الف) بهره وری چیست؟	
۰/۵		۱	مدار گردش سیارات با دور شدن از خورشید بزرگ تر می شود. ص <input type="checkbox"/> غ <input type="checkbox"/>	فصل ۱
۰/۵		۲	حداکثر طول جغرافیایی یک نقطه چند درجه است؟ الف) ۹۰° <input type="radio"/> ب) ۱۵° <input type="radio"/> ج) ۱۸۰° <input type="radio"/> د) ۳۶۰° <input type="radio"/>	
۰/۵		۳	اختلاف طول مدت شبانه روز در اثر کدام یک از عوامل زیر ایجاد می شود؟ الف) حرکت وضعی <input type="checkbox"/> ب) حرکت انتقالی <input type="checkbox"/> ج) اعتدال پاییزی <input type="checkbox"/> د) انحراف محور قطب ها <input type="checkbox"/>	
۱		۴	- با توجه به عوامل زیر، علت سرد شدن نیمکره شمالی در زمستان را توضیح دهید: -مدت زمان تابش خورشید -زاویه تابش خورشید	
۰/۵		۱	هرچه از مدار استوا به سمت عرض های جغرافیایی بالاتر حرکت کنیم، دمای هوا کاهش می یابد. ص <input type="radio"/> غ <input type="radio"/>	فصل ۲
۰/۵		۲	اقیانوس آرام پهناورترین و عمیق ترین اقیانوس جهان است. ص <input type="checkbox"/> غ <input type="checkbox"/>	

۰/۵	از کناره های کانادا، کدام جریان دریایی عبور می کند؟ الف) گرینلند <input type="checkbox"/> ب) گلف استریم <input type="checkbox"/> ج) بنگولا <input type="checkbox"/> د) لابرادور <input type="checkbox"/>	۳
-----	---	---

۰/۵	الف) صحرا <input type="checkbox"/> ب) ربع الخالی <input type="checkbox"/> ج) گبی <input type="checkbox"/> د) لوت <input type="checkbox"/> جزء بیابان های سرد جهان است.	۱	فصل ۳
۱	در ارتباط با جنگل های استوایی پاسخ مناسب را انتخاب کنید. الف) ۵۰ درصد اکسیژن جهان توسط این جنگل ها تأمین می شود. <input type="checkbox"/> ص <input type="checkbox"/> غ ب) درختان برگ ریز متعلق به این جنگل ها هستند. <input type="checkbox"/> ص <input type="checkbox"/> غ ج) این جنگل ها قابلیت جذب دی اکسید کربن زیادی دارند. <input type="checkbox"/> ص <input type="checkbox"/> غ د) تخریب جنگل های استوایی در برخی کشورها مانند آرژانتین بسیار گسترده بوده است. <input type="checkbox"/> ص <input type="checkbox"/> غ	۲	

۱	زیست بوم توندرا و تایگا را باهم مقایسه نموده و شباهت ها و تفاوت هایشان را بنویسید:	۳									
<table border="1" style="width: 100%; text-align: center;"> <thead> <tr> <th>تفاوت</th> <th>شباهت</th> <th></th> </tr> </thead> <tbody> <tr> <td></td> <td></td> <td>توندرا</td> </tr> <tr> <td></td> <td></td> <td>تایگا</td> </tr> </tbody> </table>			تفاوت	شباهت				توندرا			تایگا
تفاوت	شباهت										
		توندرا									
		تایگا									

۰/۵	کدام یک از گزینه های زیر جز ملاک های اصلی توسعه انسانی نیست؟ الف) در آمد و رفاه <input type="checkbox"/> ب) امید به زندگی <input type="checkbox"/> ج) آزادی <input type="checkbox"/> د) سواد و آموزش <input type="checkbox"/>	۱	فصل ۴
۱	معیار میزان در آمد و رفاه به کدام ویژگی های جوامع اشاره می کند؟ (۴ مورد)	۲	
۱	- دو مورد از عوامل طبیعی و انسانی که مانع جذب جمعیت می شوند، بنویسید: عوامل طبیعی ۱- ۲- عوامل انسانی ۱- ۲-	۳	

۱	- اقیانوس ها چه نقشی در زندگی انسان ایفا می کنند؟	۴
---	---	---

۰/۵	در دوره صفوی علوم و معارف دینی مانند تفسیر، فقه و حدیث چندان مورد توجه نبود ص <input type="radio"/> غ <input type="radio"/>	۱	فصل ۵
۰/۵	در کنار سپاه قزلباش، سپاه جدیدی از افراد غیر قزلباش تشکیل داد: الف) شاه اسماعیل <input type="radio"/> ب) شاه تهماسب <input type="radio"/> ج) شاه عباس <input type="radio"/> د) شاه سلطان حسین <input type="radio"/>	۲	
۰/۵	با استفاده از کلمات زیر، یک سوال مربوط به دوره صفوی، طرح کنید: (خشکیبار - پارچه - قالی)	۳	
۱	- اوضاع سیاسی ایران هنگام تأسیس حکومت صفوی را با توجه به کلمات زیر توضیح دهید (حکومت - حاکمان - امنیت - همسایه)	۴	
۰/۵	بیشتر دوران دوازده ساله پادشاهی نادر به نبردهای خارجی و فرونشاندن شورش های داخلی گذشت ص <input type="radio"/> غ <input type="radio"/>	۱	فصل ۶
۰/۵	در دوره حکومت افغانها کدام کشورها توانستند بخش هایی از سرزمین مان را اشغال کنند: الف) انگلیس - فرانسه <input type="radio"/> ب) روسیه - پرتغال <input type="radio"/> ج) روسیه - عثمانی <input type="radio"/> د) عثمانی - پرتغال <input type="radio"/>	۲	
۰/۵	فرماندهی سپاه ایران در جنگ با روسیه را چه کسی بر عهده داشت؟	۳	
۱	-: در قراردادهایی که در زمان فتحعلی شاه بین ایران و انگلستان بسته شد، هر یک از طرفین متعهد به انجام چه کارهایی شدند: -ایران: -انگلستان: موفق باشید.	۴	

نام و نام خانوادگی :	به نام خدا وزارت آموزش و پرورش سازمان آموزش و پرورش آذربایجان غربی مدیریت/اداره آموزش و پرورش ناحیه یک ارومیه دبیرستان بنت الهدی دوره ی اول سال تحصیلی ۹۵-۹۴	پایه ی : نهم
شعبه ی کلاس :		نام درس : مطالعات اجتماعی
شماره ی صندلی :		نوبت امتحان : نوبت دوم
تعداد صفحه :		تاریخ امتحان :
تعداد سوال :		مدت امتحان ۷۰ دقیقه
طراح : اسماعیل زاده		ساعت امتحان :

بارم	بخش اجباری : دانش آموز عزیز لطفاً به تمام سوالات فصل ۷ تا ۱۲ پاسخ دهید .	
۱/۵	<p>۱- غلط ۱- کشورهای انگلستان ، فرانسه، شوروی و آمریکا در جنگ جهانی دوم به دولت های محور معروف شدند صحیح <input type="radio"/></p> <p>۲- از موانع و مشکلات حکومت مشروطه دو مورد را نام ببرید .</p> <p>۳- مهم ترین دلیل موفقیت کودتای ۲۸ مرداد چه بود ؟</p>	فصل هفتم
۱/۵	<p>۴- کدام یک از شخصیت های نام برده شده با تصویب نامه انجمن های ایالتی و ولایتی به مخالفت برخاست ؟</p> <p>آیت الله خامنه ای <input type="radio"/> امام خمینی <input type="radio"/> دکتر بهشتی <input type="radio"/> آیت الله مطهری <input type="radio"/></p> <p>۵- چرا دانشجویان پیرو خط امام در ۱۳ آبان ۵۸ سفارت آمریکا در ایران را اشغال کردند ؟</p> <p>۶- یکی از خونین ترین رویدادهای دوران انقلاب اسلامی در کدام سال و روزبه وقوع پیوست ؟ و این روز به چه نامی معروف است ؟</p>	فصل هشتم
۱/۵	<p>۷- اولین و مهم ترین کانون اجتماعی شدن فرد ، در مدرسه صورت می گیرد . صحیح <input type="radio"/> غلط <input type="radio"/></p> <p>۸- مهم ترین دلایل پیروی از هنجارها را نام ببرید . ۱-</p> <p>۲-</p> <p>۹- با توجه به تصویر معنی نماد داده شده را توضیح دهید .</p>	فصل نهم



<p>۱۵ /</p> <p>۱</p> <p>۱</p>	<p>۱۰- از دیدگاه اسلام مهم ترین عاملی که باید در همسر گزینی به آن توجه کرد کدام است ؟</p> <p>○ تناسب و همگونی ○ توجه به تحصیلات ○ اعتقادات دینی ○ رهت</p> <p>۱۱- از نظر روان شناسان تک فرزندی چه پیامدهای نا مطلوب فردی و اجتماعی دارد ؟ ذکر دو مورد کافی است.</p> <p>۱۲- از کارکرد های خانواده دو مورد را نام ببرید .</p>	<p>فصل دهم</p>
<p>۱۵ /</p> <p>۱</p> <p>۱</p>	<p>۱۳- عوارض مبلغی است که شهروندان بر اساس قانون به صورت بلا عوض به دولت می پردازند <u>امامالیات</u> مبلغی است که شهروند در مقابل دریافت خدمت به دستگاه های دولتی می پردازد . صحیح ○ غلط ○</p> <p>۱۴- از حقوق شهروندی دو مورد را توضیح دهید .</p> <p>۱۵- هدف از تشکیل شوراهای اسلامی شهر و روستا چیست ؟</p>	<p>فصل یازدهم</p>
<p>۱۵ /</p> <p>۱</p> <p>۱</p>	<p>۱۶- این جمله از کیست ؟ « خداوند دوست دارد اگر کسی از شما کاری انجام می دهد آن را محکم و بی عیب انجام دهد »</p> <p>○ حضرت علی (ع) ○ پیامبر اکرم (ص) ○ امام صادق (ع) ○ امام سجاد (ع)</p> <p>۱۷- بهره وری سبز چیست و با چه هدفی صورت می گیرد ؟</p> <p>۱۸- تصویر داده شده به کدام یک از عوامل موثر در بهره وری اشاره می کند ؟ و در یک جمله توضیح دهید</p>	<p>فصل دوازدهم</p>



بخش اختیاری : لطفا در این بخش فقط دو فصل را انتخاب کرده و به سوالات همان دو فصل پاسخ دهید.		
/۵	<p>۱-درمیان چهار سیاره نزدیک خورشید ، کدام یک بزرگترین است ؟ <input type="radio"/> تیر <input type="radio"/> ناهید <input type="radio"/> زمین <input type="radio"/> بهرام</p> <p>۲-نتایج حرکت وضعی زمین را توضیح دهید .</p> <p>۳-تعداد روزهای سال رسمی و سال کبیسه را با هم مقایسه کنید .</p>	فصل اول
۱		
۱		
/۵	<p>۱-لایه ازن در کدام بخش از هوا کره قرار دارد ؟ <input type="radio"/> مزوسفر <input type="radio"/> ترموسفر <input type="radio"/> استراتوسفر <input type="radio"/> تروپوسفر</p> <p>۲-از عوامل موثر بر آب و هوای جهان دو مورد را نام ببرید .</p> <p>۳-چرا سفر به اعماق اقیانوس ها دشوارتر از صعود به قله هاست ؟ دو دلیل ذکر کنید .</p>	فصل دوم
۱		
۱		
	طراح سوال : سکینه اسماعیل زاده	
/۵	<p>۱-چین و تایلند بیشترین میزان عاج قاچاق را در جهان وارد می کنند . <input type="radio"/> صحیح <input type="radio"/> غلط</p> <p>۲-ویژگی های نام برده شده مربوط به کدام یک از زیست بوم های جهان است ؟</p> <p>الف) این ناحیه زمستان طولانی دارد و سرمای شدید در آن حکمفرماست</p> <p>ب) این ناحیه در تمام سال گرم است و در آن دو فصل خشک و مرطوب وجود دارد.</p> <p>ج) در این منطقه هوا همیشه گرم و رطوبت حدود ۸۰درصد . میزان بارندگی سالیانه ۲۵۰ میلی لیتر است</p> <p>۳-از میان عوامل موثر در تنوع زیست بوم ها کدام یک بیشترین تاثیر را دارد ؟</p>	فصل سوم
۱/۵		
/۵		

/۵ ۱ ۱	<p>۱- کدام یک از این عوامل جزو عوامل انسانی موثر در جذب جمعیت نیست؟ فرهنگی <input type="radio"/> معادن <input type="radio"/> امکانات و تسهیلات <input type="radio"/> سیاسی اداری <input type="radio"/></p> <p>۲- میزان طول عمر یا امید به زندگی در یک جامعه نشان دهنده چیست؟</p> <p>۳- از کشورهایی که با کاهش رشد منفی جمعیت روبرو هستند دو مورد را نام ببرید.</p>	فصل چهارم
/۵ ۱ ۱	<p>۱- کدام پادشاه صفوی حکومت را به اوج قدرت رساند؟ شاه اسماعیل <input type="radio"/> شاه تهماسب <input type="radio"/> سلطان حسین <input type="radio"/> شاه عباس <input type="radio"/></p> <p>۲- علت شکست ایران در جنگ چالدران از عثمانی ها را توضیح دهید.</p> <p>۳- دو عامل گسترش و رونق تجارت در عصر صفوی را بنویسید.</p>	فصل پنجم
/۵ ۱ ۱	<p>۱- یکی از مهم ترین اقدامات میرزا حسن رشديه تاسيس مدرسه دارالفنون بود. صحيح <input type="radio"/> غلط <input type="radio"/></p> <p>۲- موفقیت نهضت تنباکو از نظر سیاسی - اجتماعی چه اهمیتی داشت؟</p> <p>۳- طبق عهد نامه ترکمان چای کدام مناطق ایران به تصرف روس ها در آمد؟</p>	فصل ششم
	موفق باشید .	
	طراح سوال : سکینه اسماعیل زاده	

نمونه پیشنهادی شماره : نام خدا وزارت آموزش و پرورش

نام و نام خانوادگی : اداره کل آموزش و پرورش استان آذربایجان شرقی نام آموزشگاه :

طراح : شهلاعیوضی آزمون هماهنگ درس مطالعات اجتماعی پایه نهم خرداد ماه ۱۳۹۵

مدت امتحان : ۸۰ دقیقه تاریخ امتحان : ... ۹۵/۳ ساعت امتحان : ۱۰صبح تعدادصفحه : ۶ صفحه : ۱

بخش الف : (اجباری) دانش آموزان عزیز با آرزوی موفقیت برای شما، لطفاً به همه سوالات فصل هفتم تا دوازدهم پاسخ دهید:

فصل ۷	۱	در جنگ جهانی اول کدام یک از کشورهای زیر جزء متفقین نبود: الف) انگلستان ب) ایتالیا ج) فرانسه د) آمریکا	۰/۵										
	۲	انقلاب مشروطه با چه هدفی شکل گرفت؟	۱										
	۳	الف) چه کسانی در زمان مظفرالدین شاه انجمنی از آزادی خواهان تشکیل دادند و به فکر ایجاد تغییراتی به نفع مردم بودند؟ ب) مجاهدان مشروطه خواهی که در تبریز در برابر حکومت استبدادی محمدعلی شاه قیام کردند؟	۱										
فصل ۸	۱	ایجاد ناامنی در مناطق مرزی در اوایل انقلاب توسط دولت های سلطه گر با هدف مقابل هم قرار دادن اقوام ایرانی بود ص غ	۰/۵										
	۲	با توجه به مجموعه کلمات زیر قیام ۱۵ خرداد ۱۳۴۲ را توضیح دهید: (قم، تهران، ورامین، شاه، اسرائیل، آمریکا)	۰/۵										
	۳	علت تبعید امام به ترکیه چه بود؟	۰/۵										
	۴	نمودار روند تاسیس نظام جمهوری اسلامی را تکمیل کنید:	۱										
		<table border="1"><tr><td style="text-align: center;">→</td><td></td><td></td><td></td><td></td></tr><tr><td>همه پرسی تعیین نظام سیاسی</td><td></td><td></td><td></td><td></td></tr></table>	→					همه پرسی تعیین نظام سیاسی					
→													
همه پرسی تعیین نظام سیاسی													

۰/۵	۱	به روابط اجتماعی سامان میبخشد و زندگی اجتماعی بدون وجود آنها ادامه پیدا نمی کند. الف) نمادها ب) هنجارها ج) ارزش ها د) عقاید	۹	فصل ۹
۱	۲	برای هر یک از موارد زیر یک مثال بنویسید: الف) تاثیر ویژگی های جسمانی افراد بر خصوصیات روانی آنها:..... ب) تاثیر ویژگی های اخلاقی و روانی بر خصوصیات جسمانی افراد:..... ج) تاثیر هویت اجتماعی بر هویت فردی:..... د) تاثیر هویت افراد بر هویت جامعه:.....		
۱	۳	افراد یک جامعه برای زندگی در کنار هم از کدام شیوه های مشترک استفاده می کنند؟ (۴ مورد)		
۰/۵	۱	خانواده واحد بنیادین جامعه و کانون رشد و تعالی انسان است. ص غ	۱۰	فصل ۱۰
۱	۲	الف) منظور از این جمله چیست؟ (فرایند اجتماعی شدن هم به طور مستقیم و هم غیر مستقیم صورت میگیرد)		
۱	۳	کوتاه پاسخ دهید: - چه عواملی موجب ناسازگاری والدین و فرزندان می شود: (دو مورد) - دلایل اهمیت فرزندآوری را بیان کنید: (دو مورد) -		
۰/۵	۱	اسلام وجود حکومت را برای جامعه ضروری نمی داند. ص غ	۱۱	فصل ۱۱

۱	<p style="text-align: right;">در جاهای خالی کلمات مناسب بنویسید:</p> <div style="text-align: center;"> <table border="1" style="margin: auto;"> <tr> <td colspan="3" style="text-align: center;">رهبری</td> </tr> <tr> <td style="text-align: center;">مجریه</td> <td style="text-align: center;">قضایه</td> <td style="text-align: center;">مقننه</td> </tr> <tr> <td style="text-align: center;">.....</td> <td style="text-align: center;">رئیس قوه قضایه</td> <td style="text-align: center;">نمایندگان مجلس شورای اسلامی</td> </tr> </table> </div>	رهبری			مجریه	قضایه	مقننه	رئیس قوه قضایه	نمایندگان مجلس شورای اسلامی	۲
رهبری											
مجریه	قضایه	مقننه									
.....	رئیس قوه قضایه	نمایندگان مجلس شورای اسلامی									
۱	<p>- مهم ترین وظایف حکومت ها را نام ببرید: (دو مورد)</p> <p>- برای حفظ آمادگی دفاعی و ادای این تکالیف مهم چه کارهایی انجام می گیرد؟</p>	۳									
۰/۵	در دنیای امروز تولید عمدتاً با هدف سود بیشتر انجام می‌گیرد. ص غ	۱ فصل ۱۲									
۱	<p>کوتاه پاسخ دهید:</p> <p>- فعالیت اقتصادی با چه هدفی صورت می‌گیرد؟</p> <p>- پزشکان، معلمان، پلیس ها و کارمندان آن را ارائه می کنند:</p> <p>- با هدف تولید، توزیع و مصرف پدید می آید:</p> <p>- در چرخه تولید، توزیع و مصرف، به عنوان واسطه بین بخش ها ارتباط برقرار می کند:</p>	۲									

<p>بخش ب: (اختیاری) دانش آموز عزیز لطفاً در این بخش فقط دو فصل را انتخاب کنید و به سوالات همان دو فصل پاسخ دهید: (دقت کنید به بیش از دو فصل پاسخ ندهید. زیرا در این صورت به ترتیب پاسخ های سوالات دو فصل تصحیح و بقیه حذف می شود.)</p>		
۱	چند راهکار مهم برای افزایش بهره وری در زندگی بیان کنید: (۲ مورد)	۳
۰/۵	از میان سیارات درونی منظومه خورشیدی زمین از همه بزرگ تر است. ص ○ غ ○	۱ فصل ۱
۰/۵	<p>کدام نقاط طلوع خورشید را همزمان می بینند؟</p> <p>الف) نقاطی که روی یک مدار واقع شده اند. ○ ب) نقاطی که فاصله شان کمتر از یک کیلومتر باشد. ○</p>	۲

		(ج) نقاطی که روی یک نصف النهار باشد. ○ (د) نقاطی که طول و عرض جغرافیایی شان برابر است. ○	
۰/۵	۳	کدام یک از جملات زیر در مورد نصف النهار نادرست است؟ الف) نیم دایره های فرضی هستند و در فاصله مساوی از دو قطب شمال و جنوب کشیده شده اند. ○ ب) نیم دایره هایی هستند که طول مساوی دارند. ○ ج) برای تعیین موقعیت مکانی یک پدیده از نصف النهارها هم استفاده می شود. ○ د) نصف النهاری که از رصدخانه گرینویچ در شهر لندن عبور می کند صفر درجه است. ○	
۱	۴	- در چه مواقعی از سال طول شب و روز برابر است؟ به این دو زمان چه می گویند؟	
۰/۵	۱	در جنگل های کنگو در آفریقا آب و هوا گرم و خشک است. ص ○ غ ○	فصل ۲
۰/۵	۲	به سرزمین های نسبتاً هموار اما مرتفع که از اطراف به سرزمین های کم ارتفاع و پست منتهی می شوند می گویند. الف) جلگه ○ ب) بیابان ○ ج) فلات ○ د) دشت ○	
۰/۵	۳	برای مجموعه کلمات زیر یک سوال طرح کنید: (هوازدگی - فرسایش آبی - فرسایش بادی - فرسایش یخچالی)	
۱	۴	الف: لایه ازن در کدام بخش هوا کره قرار دارد و فایده لایه ازن چیست؟ ب: ارتفاعات چه نقشی در آب و هوای یک منطقه می توانند داشته باشد؟	

۰/۵	در زیست بوم بیابان بیشترین میزان ترکیبات عالی جهان تولید می شود. ص <input type="radio"/> غ <input type="radio"/>	۱	فصل ۳
۱	باتوجه به کلمات پاسخ دهید: (تایگا - توندرا - بیابان - ساوان - جنگل های بارانی استوایی) - در تابستان با ذوب شدن یخ ها در زیر خاک باتلاق های کم عمق ایجاد می شود - درختان این ناحیه همیشه مثل کاج و سرو همیشه سبزند. - سرزمین خشکی که میزان بارندگی سالیانه آن کمتر از ۵۰ میلی متر است. - جنگل های این زیست بوم را ری های زمین نامیده اند.	۲	
۱	- اثرات نامطلوب سوزاندن یا قطع درختان یک ناحیه در زندگی انسان چگونه است؟	۳	
۰/۵	باتوجه به میزان شاخص توسعه انسانی ایران در سال ۲۰۱۴، کشور ما در گروه کشورهایی با شاخص توسعه قرار می گیرد. الف) خیلی بالا <input type="radio"/> ب) بالا <input type="radio"/> ج) متوسط <input type="radio"/> د) پایین <input type="radio"/>	۱	فصل ۴
۱	کشورهای کدام مناطق از جهان بیشترین و کم ترین درآمد دنیا را در دست دارند؟ بیش ترین کمترین	۲	
۱	الف: رشد منفی جمعیت یعنی چه؟ چه کشور هایی در آسیا دارای رشد منفی جمعیت هستند؟	۳	

۰/۵	صادرات ابریشم پرسود ترین کالای صادراتی بود که در انحصار شاه عباس قرار گرفت. ص <input type="radio"/> غ <input type="radio"/>	۱	فصل ۵
۰/۵	در دوره صفوی درصد ایرانیان در شهرها زندگی می کردند. الف) ۳۵ <input type="radio"/> ب) ۴۵ <input type="radio"/> ج) ۲۵ <input type="radio"/> د) ۱۵ <input type="radio"/>	۲	
۰/۵	- مهم ترین اقدامات شاه اسماعیل بعد از شکل گیری حکومت صفوی چه بود؟ (دو مورد)	۳	
۱	هر یک از موارد زیر مربوط به عملکرد کدام یک از پادشاهان حکومت صفوی می باشد: - تثبیت و تحکیم حکومت - تأسیس حکومت - اوج قدرت حکومت - سقوط حکومت	۴	

۰/۵	<p>در فاصله سقوط صفویه تا روی کار آمدن قاجاریه اوضاع کشور های اروپایی به خاطر انقلاب صنعتی تغییر کرده بود</p> <p>ص ○ غ ○</p>	۱	فصل ۶
۰/۵	<p>در جریان نهضت تنباکو، کدام یک از مراجع استفاده از توتون و تنباکو را حرام اعلام کرد؟</p> <p>الف) آیت الله بهبهانی ○ ب) میرزا حسن شیرازی ○ ج) شیخ فضل الله نوری ○ د) شیخ محمد خیابانی ○</p>	۲	
۰/۵	<p>از جمله افرادی بود که پیش گام تأسیس مدرسه هایی به سبک اروپایی در ایران شدند.</p>	۳	
۱	<p>– به موجب عهد نامه گلستان چه قسمت هایی از ایران به روسیه واگذار شد؟</p> <p>موفق باشید.</p>	۴	

به نام خدا

نام آموزشگاه:

آموزش و پرورش استان آذربایجان شرقی

آزمون هماهنگ درس مطالعات اجتماعی پایه نهم خرداد ماه ۱۳۹۵ شماره ۴

طراح: شهلاعیوضی

تعداد صفحه: ۶ صفحه: ۱

ساعت امتحان: ۱۰ صبح

مدت امتحان: ۸۰ دقیقه تاریخ امتحان: .../۳/۹۵

بخش الف: (اجباری) دانش آموزان عزیز با آرزوی موفقیت برای شما، لطفاً به همه سوالات فصل هفتم تا دوازدهم پاسخ دهید.

۰/۵	۱	خدا جنگ جهانی اول با پیروزی متفقین به پایان رسید. ص <input type="radio"/> غ <input type="radio"/>	فصل ۷
۱	۲	باتوجه به حوادث و رویدادهای مربوط به انقلاب مشروطیت پاسخ سوالات زیر را بنویسید: الف) مهمترین خواسته مردم در آغاز انقلاب بود: ب) فرمان مشروطیت را صادر کرد: ج) به انقام مخالفت با مشروطه اعدام شد: د) با پشتیبانی روسیه مجلس را منحل کرد:	
۱	۳	ب) وقوع کدام حادثه در دوره قاجار انگیزه و اراده مردم را برای مبارزه با استبداد بیش تر کرد و زمینه را برای انقلاب مشروطه فراهم نمود؟	
۰/۵	۱	هدف آمریکا از ایجاد تغییرات در امور اجتماعی و اقتصادی ایران چه بود؟	فصل ۸
۱	۲	چرا دولت های سلطه گر و زورگو در راس آنها آمریکا فعالیت های گسترده ای را برای انحراف و نابودی انقلاب آغاز کردند؟ علت: دو نمونه از اقدامات:	
۱	۳	مهم ترین ویژگی انقلاب و سه عامل موثر در موفقیت انقلاب اسلامی را بیان کنید؟	

۰/۵	<p>عقاید و ارزش های جامعه هیچ تاثیر بر هویت اجتماعی افراد ندارد. ص <input type="radio"/> غ <input type="radio"/></p>	فصل ۹									
۱	<p>هریک از جملات زیر در توضیح کدام یک از لایه های فرهنگ مورد استفاده قرار میگیرد.</p> <p>الف) هر جامعه ای برای انتقال معانی مورد نظر خود از آنها استفاده میکند.....</p> <p>ب) قواید و شیوه های مورد قبول یک جامعه برای انجام دادن کار های مختلف.....</p> <p>ج) خوب، بد، زشت، زیبا و مطلوب و نامطلوب دانستن امور مختلف را شامل می شود.....</p> <p>د) سهم مهمی از فرهنگ هر جامعه که سایر لایه های فرهنگ بر مبنای آن شکل می گیرد</p>	۲									
۱	<p>الف) مهم ترین دلایل پیروی از هنجارها را نام ببرید. (دو مورد)</p> <p>ب) مهم ترین عناصر شکل دهنده هویت ملی جامعه ایرانی را نام ببرید. (دو مورد)</p>	۳									
۰/۵	اولین شرط بقای هر جامعه ای جمعیت آن است. ص <input type="radio"/> غ <input type="radio"/>	فصل ۱۰									
۱	چرا اجتماعی شدن هم نیاز فرد و هم نیاز جامعه است؟	۲									
۱	<p>- والدین و فرزندان چه حقوق و تکالیفی نسبت به همدارند</p> <table border="1" data-bbox="142 1241 1370 1409"> <thead> <tr> <th data-bbox="142 1241 764 1297">تکالیف</th> <th data-bbox="764 1241 1247 1297">حقوق</th> <th data-bbox="1247 1241 1370 1297"></th> </tr> </thead> <tbody> <tr> <td data-bbox="142 1297 764 1354"></td> <td data-bbox="764 1297 1247 1354"></td> <td data-bbox="1247 1297 1370 1354">والدین</td> </tr> <tr> <td data-bbox="142 1354 764 1409"></td> <td data-bbox="764 1354 1247 1409"></td> <td data-bbox="1247 1354 1370 1409">فرزندان</td> </tr> </tbody> </table>	تکالیف	حقوق				والدین			فرزندان	۳
تکالیف	حقوق										
		والدین									
		فرزندان									

۰/۵	هم حق و تکلیف مردم و هم حق و تکلیف حکومت محسوب می شود :	۱	فصل ۱۱
	الف) دفاع از کشور ب) پرداخت مالیات و عوارض ج) امر به معروف و نهی از منکر د) رعایت قانون و مقررات		
۱	دیدگاه اسلام را درباره ی ماهیت حکومت بیان کنید:	۲	
۱	-در مورد رعایت قانون و مقررات از تکالیف شهروندی به سوالات زیر پاسخ دهید: -نادیده گرفتن قانون یا سرپیچی و تخلف از آن چه نتایج دارد؟ -چه موقع قانون جایگاه واقعی خود را در جامعه پیدا می کند؟	۳	
۰/۵	اگر در زندگی ارزش ها و هنجارها با آموزه ها و آرمان های دینی مغایرت داشته باشد برای رسیدن به وضع مطلوب چه باید کرد؟	۱	فصل ۱۲
۱	با استفاده از کلمات زیر جملات را کامل کنید. ستانده - فرایند - نهاده در اقتصاد ، بهره وری را نسبت به تعریف کرده اند. اگر بخواهیم تولید کار یا خدمت را افزایش دهیم باید در یا تغییرات مطلوبی به وجود بیاوریم.	۲	

بخش ب: (اختیاری) دانش آموز عزیز لطفا در این بخش فقط دو فصل را انتخاب کنید و به سوالات همان دو فصل پاسخ دهید. (دقت کنید به بیش از دو فصل پاسخ ندهید. زیرا در این صورت به ترتیب پاسخ های سوالات دو فصل تصحیح و بقیه حذف می شود.)			
۱	- وضعیت بهره وری در کشور ما چگونه است و ما در این زمینه چه وظایفی بر عهده داریم ؟	۳	
۰/۵	مبنای ساعت واقعی موقعیت خورشید در آسمان است. ص غ	۱	فصل ۱
۰/۵	در ایران ما به جنوب شرقی نماز می خوانیم. ص غ	۲	

۰/۵	<p>کدام جمله نادرست است؟</p> <p>الف) طول جغرافیایی هر مکان عبارت است از فاصله آن مکان با مدار استوا بر حسب درجه <input type="radio"/></p> <p>ب) نصف النهار را که از رصد خانه گرینویچ عبور می کند به عنوان نصف النهار مبداء انتخاب کرده اند <input type="radio"/></p> <p>ج) نصف النهارها از قطب شمال تا جنوب کشیده شده اند <input type="radio"/> (د) مدار استوا (مدار مبداء) صفر درجه است. <input type="radio"/></p>	۳	
۱	<p>- در اوایل تیر ماه خورشید در نیمکره شمالی به مدار رأس السرطان عمود می تابد. در این هنگام طولانی ترین در این نیمکره است و به آن می گویند.</p>	۴	
۰/۵	<p>تشکیل ابرها و بسیاری از تغییرات آب و هوایی در این لایه صورت می گیرد؟</p> <p>الف) استراتوسفر <input type="radio"/> ب) مزوسفر <input type="radio"/> ج) تروپوسفر <input type="radio"/> د) ترموسفر <input type="radio"/></p>	۱	فصل ۲
۱	<p>هر یک از ویژگی های زیر مربوط به کدام یک از کوه ها است؟</p> <p>دره V شکل - دره U شکل - شیب تند دامنه - قله های گنبدی شکل</p> <p>کوه های جوان : کوه های پیر:</p>	۲	
۱	<p>الف : چرا سفر به اعماق اقیانوس ها دشوار تر از صعود به قله هاست؟</p> <p>ب : اقیانوس ها چگونه مورد بی مهری انسان ها قرار گرفتند؟</p>	۳	

۰/۵	۱	مهم ترین عامل تنوع زیست بوم ها میزان ارتفاع زمین است. ص <input type="radio"/> غ <input type="radio"/>	فصل ۳
۱	۲	با توجه به کلمات پاسخ دهید: توندرا - تایگا - جنگل های بارانی استوایی - ساوان - بیابان - از گسترده ترین زیست بوم هاست و در در قاره های آسیا، اروپا و آمریکای شمالی گسترش یافته است. - بیشترین تنوع زیستی جهان را دارد. - آب و هوای آن در تمام طول سال گرم است و در آن دو فصل خشک و مرطوب وجود دارد. - در این ناحیه زمین ها از برف و یخ پوشیده شده است.	
۱	۳	۱- تخریب جنگل های استوایی در چه کشور هایی بسیار گسترش یافته است؟ ۲- امروزه از جنگل های بارانی استوایی چه استفاده هایی به عمل می آید؟	
۰/۵	۱	مهاجرت یعنی چه؟	فصل ۴
۱	۲	در دو قرن اخیر دو عامل موجب کاهش چشمگیر مرگ و میر ها شده است. نام ببرید و یک مورد را به اختیار توضیح دهید.	
۱	۳	- در صورت وجود چه شرایطی رشد مثبت جمعیت سبب پیشرفت کشور خواهد شد؟	
	۱	قرن های ۱۶ تا ۱۹ میلادی در تاریخ اروپا را قرون جدید می نامند. ص <input type="radio"/> غ <input type="radio"/>	فصل ۵
۰/۵	۲	شاه اسماعیل صفوی توانست پرتغالی ها را از جزایر و سواحل جنوبی کشورمان بیرون کرد. ص <input type="radio"/> غ <input type="radio"/>	
۰/۵	۳	حکومت صفوی را تثبیت و تحکیم کرد. الف) شاه اسماعیل <input type="radio"/> ب) شاه عباس <input type="radio"/> ج) شاه تهماسب <input type="radio"/> د) شاه سلطان حسین <input type="radio"/>	
۱	۴	- انگیزه ها و اهداف های سیاسی و اقتصادی اروپاییان از ارتباط با ایران در دوره صفوی را در زمینه های زیر بیان کنید: سیاسی - اقتصادی	


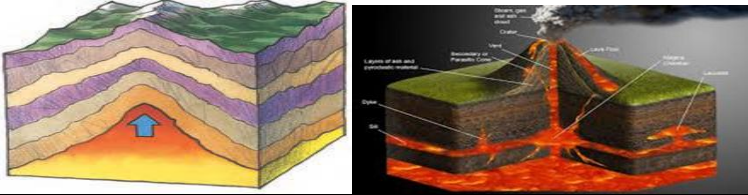
۰/۵	<p>یکی از اهداف استعماری این کشور در حمله به ایران رسیدن به آب های آزاد و گرم خلیج فارس و اقیانوس هند بود</p> <p>الف) انگلیس ○ ب) روسیه ○ ج) عثمانی ○ د) پرتغال ○</p>	۱	فصل ۶
۱	<p>انگیزه و اهداف امیر کبیر از اقدامات اصلاحی در زمینه های زیر را بنویسید:</p> <p>داخلی : خارجی :</p>	۲	
۱	<p>- در مورد آقا محمد خان قاجار به سوالات زیر پاسخ دهید:- چه شهری را به عنوان پایتخت خود برگزید؟ - در انتخاب پایتخت به چه نکته مهمی توجه داشت؟ - چگونه کشته شد؟- پس از او چه کسی به قدرت رسید؟</p> <p>موفق باشید.</p>	۳	

<p>نمونه پیشنهادی شماره : به نام خدا</p> <p>وزارت آموزش و پرورش</p> <p>نام و نام خانوادگی : اداره کل آموزش و پرورش استان آذربایجان شرقی</p> <p>نام آموزشگاه:</p> <p>طراح: شهلا عیوضی</p> <p>آزمون هماهنگ درس مطالعات اجتماعی پایه نهم خرداد ماه ۱۳۹۵ شماره ۵</p> <p>مدت امتحان : ۸۰ دقیقه تاریخ امتحان : .../۳/۹۵ ساعت امتحان : ۱۰ صبح تعداد صفحه : ۶ صفحه : ۱</p>		
<p>بخش الف: (اجباری) دانش آموزان عزیز با آرزوی موفقیت برای شما , لطفاً به همه سوالات فصل هفتم تا دوازدهم پاسخ دهید:</p>		
فصل ۷	۱	مهم ترین دلیل موفقیت کودتای ۲۸ مرداد بروز اختلاف میان رهبران نهضت ملی شدن نفت بود. ص غ
	۲	چه کسانی بودند: الف) فرمانده دلیر مردان تنگستانی که ضربه سنگینی به اشغال گران انگلیسی وارد آوردند: ب) شخصیت مبارزه و آزادی خواهی که با قرداد ۱۹۱۹ و هم چنین به قدرت رسیدن رضا خان مخالفت کرد:
	۳	الف) موانع و مشکلات حکومت مشروطه را نام ببرید؟ داخلی: خارجی:
فصل ۸	۱	محمد رضا شاه با استبداد و سرکوب، آشکارا اصول قانون اساسی مشروطه را نادیده گرفت. ص غ
	۲	ارتباط بین گزینه ها را با کشیدن خطی مشخص کنید: ۱۲ فروردین ۱۳۵۸ جنگ عراق علیه ایران ۳۱ شهریور ۱۳۵۹ روز جمهوری اسلامی ۱۳ آبان ۱۳۵۸ رحلت امام خمینی (ره) ۱۳ خرداد ۱۳۶۸ تسخیر سفارت امریکا ۱۲ بهمن ۱۳۵۷
	۳	در توضیح قیام ۱۹ دی مردم قم پاسخ سوالات زیر را بنویسید: علت قیام: ارتباط آن با قیام ۲۹ بهمن تبریز:

۰/۵	<p>کدام جمله در مورد فرهنگ نادرست است؟</p> <p>الف) فرهنگ را میتوان شیوه مشترک زندگی در یک جامعه دانست.</p> <p>ب) فرهنگ پدیده ای آموختنی نیست یعنی از طریق ژن به ارث می رسد.</p> <p>ج) فرهنگ از راه آموزش و تربیت از نسلی به نسل دیگر منتقل می شود.</p> <p>د) فرهنگ آگاهی و اندیشه مشترک اعضای یک جامعه نیز تعریف میشود.</p>	۱	فصل ۹
۱	فرایند اجتماعی شدن علاوه بر خانواده در درون کدام گروه ها یا زمینه های اجتماعی رخ میدهد و ادامه پیدا میکند؟ (۴مورد)	۲	
۱	آیا ویژگی های هویتی ما تغییر می کند؟ با ذکر مثال توضیح دهید:	۳	
۰/۵	<p>کدام جمله نادرست است؟</p> <p>الف) یکی از کارکرد های مهم و اساسی خانواده تربیت اعضای خانواده است.</p> <p>ب) والدین فقط مسئول رفع نیاز های عاطفی، زیستی و معیشتی فرزندان هستند.</p> <p>ج) وظیفه مهم تربیت اخلاقی، معنوی و دینی فرزندان بر عهده والدین است.</p> <p>د) یک خانواده سالم میتواند فرزندان مومن، پرهیزگلو و پایبند به اصول اخلاقی تربیت کند.</p>	۱	فصل ۱۰
۱	صله ارحام شامل چه مواردی است؟ چه فوایدی دارد؟ (برای هر کدام ۲مورد)	۲	
۱	<p>الف) پیامد های نامطلوب تک فرزندی را نام ببرید: (دو مورد)</p> <p>ب) چگونه میتوان از بروز ناسازگاری والدین و فرزندان جلوگیری کرد؟ (دو مورد)</p>	۳	
۰/۵	<p>مالیات مبلغی است که شهروندان در مقابل دریافت خدمتی از دستگاه های اداری و دولتی به آنها می پردازند</p> <p>ص غ</p>	۱	فصل ۱۱

۱	<p>کوتاه پاسخ دهید:</p> <p>- در این نوع حکومت حق انتخاب و مشارکت مردم در حکومت به رسمیت شناخته می شود:</p> <p>- رهبری در جمهوری اسلامی ایران بر چه پایه ای استوار است؟</p> <p>- حقوق شهروندی چگونه معین می شود؟</p> <p>- ارتباطی است که افراد را به یک حکومت مشخص پیوند می دهد:</p>	۲	
۱	<p>- عدالت قانونی یعنی چه و فواید برقراری عدالت قانونی چیست؟</p>	۳	
۰/۵	<p>۱- برای افزایش بهره وری اقتصادی در زمینه های زیر چه باید کرد؟</p> <p>تولید و توزیع:.....</p> <p>الگوی مصرف:.....</p>	۱	فصل ۱۲
۱	<p>۲- هر یک از موارد زیر چگونه سبب افزایش بهره وری می گردد:</p> <p>- نظم و ترتیب در کارها:</p> <p>- انجام دادن کتوها از روی آگاهی:</p>	۲	
۱	<p>الف) سابقه تاریخی بهره وری را توضیح دهید و ۳ نمونه از تفکر بهره وری در زندگی مردم در روزگار گذشته را بیان کنید:</p>	۳	

بخش ب: (اختیاری) دانش آموز عزیز لطفا در این بخش فقط دو فصل را انتخاب کنید و به سوالات همان دو فصل پاسخ دهید.
(دقت کنید به بیش از دو فصل پاسخ ندهید. زیرا در این صورت به ترتیب پاسخ های سوالات دو فصل تصحیح و بقیه حذف می شود.)

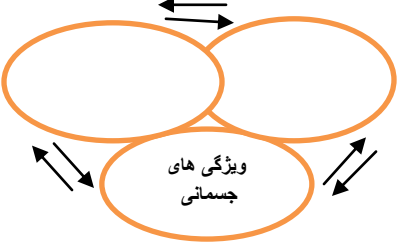
۰/۵	<p>۱ به اول بهار و اول پاییز اعتدالین می گویند. ص غ</p> <p>۲ بر روی شکل زیر: الف) مدار استوا را رسم کنید. ب) محل قطب شمال و جنوب را با علامت × مشخص کنید. ج) نصف النهار مبدأ را در وسط ترسیم نمایید.</p> 	فصل ۱									
۱	<p>۳ تفاوت سیاره های درونی و بیرونی منظومه خورشیدی را در موارد زیر بیان کنید:</p> <table border="1" data-bbox="147 611 1281 846"> <tr> <td data-bbox="147 611 526 688">سیاره های بیرونی</td> <td data-bbox="526 611 904 688">سیاره های درونی</td> <td data-bbox="904 611 1281 688"></td> </tr> <tr> <td data-bbox="147 688 526 766"></td> <td data-bbox="526 688 904 766"></td> <td data-bbox="904 688 1281 766">جنس و ترکیب</td> </tr> <tr> <td data-bbox="147 766 526 846"></td> <td data-bbox="526 766 904 846"></td> <td data-bbox="904 766 1281 846">قمر</td> </tr> </table>	سیاره های بیرونی	سیاره های درونی				جنس و ترکیب			قمر	
سیاره های بیرونی	سیاره های درونی										
		جنس و ترکیب									
		قمر									
۰/۵	<p>۱ تشکیل ابرها و بسیاری از تغییرات آب و هوایی در لایه استراتوسفر صورت می گیرد. ص غ</p>	فصل ۲									
۱	<p>۲ مواد مذابی که از گوشته به پوسته حرکت می کنند چه پدیده هایی به وجود می آورند؟ با توجه به تصاویر توضیح دهید</p> 										
۱	<p>۳ مقایسه کنید:</p> <table border="1" data-bbox="177 1352 1346 1587"> <tr> <td data-bbox="177 1352 555 1430">در مدت زمانی</td> <td data-bbox="555 1352 933 1430">در یک</td> <td data-bbox="933 1352 1346 1430"></td> </tr> <tr> <td data-bbox="177 1430 555 1507"></td> <td data-bbox="555 1430 933 1507"></td> <td data-bbox="933 1430 1346 1507">هوا وضعیت گذرا و موقتی هواکره</td> </tr> <tr> <td data-bbox="177 1507 555 1587"></td> <td data-bbox="555 1507 933 1587"></td> <td data-bbox="933 1507 1346 1587">آب و هوا وضعیت هواکره</td> </tr> </table>	در مدت زمانی	در یک				هوا وضعیت گذرا و موقتی هواکره			آب و هوا وضعیت هواکره	
در مدت زمانی	در یک										
		هوا وضعیت گذرا و موقتی هواکره									
		آب و هوا وضعیت هواکره									

۰/۵	درختان بایئ‌باب از گونه های گیاهی مشهور ساوان است. ص غ	۱	فصل ۳
۱	برای استفاده خردمندان در هر یک از موارد زیر چه باید کرد؟ کشاورزی و دامپروری بهره برداری از جنگل ها	۲	
۱	ب: مهم ترین عواملی که موجب تخریب زیستگاه ها می شوند ، کدامند؟ (دو مورد)	۳	
۰/۵	یکی از عوامل مهمی که همواره در سنجش نابرابری کشور ها با یکدیگر مورد توجه قرار گرفته ، عامل اقتصادی است. ص <input type="radio"/> غ <input type="radio"/>	۱	فصل ۴
۰/۵	منظور از نابرابری جهانی یا بین المللی چیست؟	۲	
۱	مهاجرت اجباری و اختیاری را با ذکر مثال توضیح دهید:	۳	

۰/۵	مهم ترین طرفداران صفویان به قزلباش شهرت داشتند. ص غ	۱	فصل ۵
۰/۵	در حکومت صفوی وزیر مسئول امور نظامی کشور بود. ص غ	۲	
۰/۵	یکی از منابع پر رونق ایران در دوره صفوی بود. الف) کاشی ب) چینی ج) بافندگی د) چرم	۳	
۱	الف: اروپاییان در دوره صفوی خواهان تقویت رابطه با کشورمان بودند. علت این امر چه بود؟	۴	
۰/۵	به موجب عهدنامه گلستان سرزمین های شمال رود ارس به تصرف روسیه درآمد. ص غ	۱	فصل ۶
۰/۵	در دوره قاجار جدا کردن افغانستان و بخش شرقی سیستان و بلوچستان از اهداف و برنامه های استعماری فرانسه در ایران بود. ص غ	۲	


۰/۵	به نظر شما چرا امیر کبیر بر استخدام نکردن معلمان و استادان روس وانگلیس در مدرسه دارالفنون اصرار می کرد؟	۳
۱	<p>در مورد کریم خان و سلسله زندیه به سوالات زیر پاسخ دهید:</p> <ul style="list-style-type: none">- به جای عنوان پادشاه ، چه لقبی را برای خود برگزید؟- پایتخت او چه شهری بود؟ <p>موفق باشید.</p>	۴

نمونه پیشنهادی شماره: چهاربه نام خدا		وزارت آموزش و پرورش	
نام و نام خانوادگی:		اداره کل آموزش و پرورش استان آذربایجان شرقی	
طراح: شهلا عیوضی		نام آموزشگاه:	
مدت امتحان: ۸۰ دقیقه		تاریخ امتحان: ۹۵/۳/...	
		ساعت امتحان: ۱۰ صبح	
		تعداد صفحه: ۶	
		صفحه: ۱	
بخشالف: (اجباری) دانشآموزان عزیز با آرزوی موفقیتبرایشما، لطفاً به همه سوالات فصل هفتم تا دوازدهم پاسخ دهید			
۰/۵	۱	۷	دلایل مخالفت گسترده مردم با قرار داد ۱۹۱۹ چه بود؟(دو مورد)
۱	۲		در توضیح زمینه های وقوع انقلاب مشروطیت ارتباط موارد زیر را مشخص کنید: (قیام امام حسین و واقعه کربلا - واگذاری امتیاز های بسیار به روس و انگلیس - انقلاب روسیه - ضعف و بی لیاقتی حکومت قاجار - انقلاب کبیر فرانسه) - زمینه های سیاسی و اقتصادی: - زمینه های فکری و فرهنگی داخلی: - زمینه های فکری و فرهنگی خارجی:
۱	۳		الف)بهبانه متفنین از اشغال ایران در جنگ جهانی دوم چه بود؟ ب) هدف اصلی متفنین از اشغال ایران در جنگ جهانی دوم چه بود؟
۰/۵	۱	۸	مجلس خبرگان رهبری، آیت الله خامنه ای را به رهبری انقلاب برگزید. ص غ
۱	۲		ارتباط بین گزینه ها را با کشیدن خط مشخص کنید: ۱۷شهریور۱۳۵۷ فرار شاه ۲۶ دی ۱۳۵۷ جمعه سیاه ۱۲ بهمن ۱۳۵۷ پیروزی انقلاب ۲۲بهمن ۱۳۵۷ بازگشت امام به میهن ۱۵ آبان ۱۳۵۷
۱	۳		مبارزاتی استاد مطهری و دکتر شریعتی چه تفاوتی با شیوه مبارزات دیگر داشت؟

۰/۵	بدون اجتماعی شدن هم افراد میتوانند به زندگی در جامعه ادامه دهند . ص غ	فصل ۹	۱
۱/۵	کوتاه پاسخ دهید: الف) ملاک تشخیص درست و مفید بودن ارزشها و هنجارها چیست؟ ب) ارزش های اجتماعی چه نوع ارزشهایی هستند؟ ج) نقش اقلیتهای دینی ایران در حفظ هویت و فرهنگ ایرانی را توضیح دهید.		۲
۰/۵	از ۲ سوال زیر به اختصار به ۱ سوال پاسخ دهید: الف) برداشت خود را از این نمودار، فقط با یک جمله بیان کنید: 		۳
۰/۵	مهم ترین مرحله جامعه پذیری در اجتماع و ارتباط با گروه همسالان انجام می شود. ص غ	فصل ۱۰	۱
۱	آیا فرزندان در اجتماعی شدن والدین خود مشارکت میکنند؟ بلی خیر		۲
۱	الف) در رابطه با تکالیف فرزندان نسبت به پدر و مادر جملات زیر را کامل کنید: - فرزندی که پدر و مادر از او ناراضی باشد - اطاعت از والدین در صورتی جایز نیست که ب) از دیدگاه اسلام کدام عوامل باید در همسرگزینی بیش تر مورد توجه قرار گیرد: -۱ -۲		۳
۰/۵	مهم ترین رکن در میان ارکان حکومت جمهوری اسلامی ایران کدام است؟ الف) مقننه ب) مجریه ج) قضاییه د) رهبری	فصل ۱۱	۱
۱	بر طبق اصل پنجم قانون اساسی حکومت ولایت فقیه چه نوع حکومتی است؟		۲

۱		۳	الف) چند نمونه از حقوق شهروندی را نام ببرید: (۲ مورد) ب) در جامعه ای که قوانین الهی حاکم باشد چه شرایطی ایجاد می گردد؟
۰/۵		۱	فصل ۱۲ با توجه به مشکل جدی کمبود آب در کشورمان برای افزایش بهره وری در این زمینه چه باید کرد؟
۱		۲	در مورد اقتصاد مقاومتی به سوالات زیر پاسخ دهید: - با توجه به توصیه ها و رهنمودهای چه کسی طراحی و در پیش گرفته شد؟ - منظور از اقتصاد مقاومتی چیست؟ (۲ جمله) - محور اصلی اقتصاد مقاومتی بر چه مبنایی است؟

بخش ب: (اختیاری) دانش آموز عزیز لطفا در این بخش فقط دو فصل را انتخاب کنید و به سوالات همان دو فصل پاسخ دهید. (دقت کنید به بیش از دو فصل پاسخ ندهید زیرا در این صورت به ترتیب پاسخ های سوالات دو فصل تصحیح و بقیه حذف می شود.)			
۱		۳	فرهنگ چه نقش مهمی در افزایش بهره وری یک جامعه می تواند داشته باشد؟
۰/۵		۱	فصل ۱ مبنای ساعت واقعی موقعیت خورشید در آسمان است.
۰/۵		۲	در سیاره های گازی، تعداد قمرها کمتر است.
۰/۵		۳	کدام یک از جملات زیر در مورد مدار نادرست است؟ الف) مدار استوا (مدار مبداء) صفر درجه است. ○ ب) مدارها دایره هایی هستند که در هر دو نیمکره به موازات استوا رسم شده اند. ○ ج) هرچه به طرف شمال یا جنوب نزدیک می شویم مدارها کوچک تر می شوند. ○ د) مدار استوا از قطب شمال تا جنوب به صورت یک دایره کشیده شده است. ○
۱		۴	الف: کوتاه پاسخ دهید: - سایه اجسام در زمستان چگونه است؟ - سال رسمی چند روزه است؟

۰/۵	<p>خشکی ه ازود تر از آب ها گرم می شوند و سریع تر گرمای خود را از دست می دهند. ص غ</p>	۱	فصل ۲
۰/۵	<p>کوه های هیمالیا چگونه ایجاد شده اند؟ الف) چین خوردگی ○ ب) گسل ○ ج) آتشفشان ○ د) بالازدگی</p>	۲	
۰/۵	<p>کدام جمله نادرست است؟ الف) هوای گرم فشار کمتر و هوای سرد فشار بیشتری دارد. ○ ب) فشار هوا در سطح دریا ها کم و در ارتفاعات و کوهستان ها زیاد است ○ ج) هوا همیشه از جایی که فشار بیشتری دارد به سمت جایی که فشار کمتری دارد جریان می یابد. ○ د) هوای سرد سنگین است و به سمت پایین و هوای گرم سبک است و به سمت بالا صعود می کند. ○</p>	۳	
۱	<p>- ورقه های زمین شامل چه بخش هایی است؟ - چه عاملی سبب می گردد این ورقه ها بتوانند حرکت کنند؟</p> <p>ب: بر روی شکل، مهم ترین مناطق آب و هوایی زمین را با رسم مدار ها نشان دهید.</p> 	۴	

۰/۵	<p>۱ - با تغییر دما و بارش از یک ناحیه به ناحیه دیگر پوشش گیاهی تغییر می کند. ص <input type="radio"/> غ <input type="radio"/></p>	فصل ۳
۱	<p>۲ - با توجه به کلمات پاسخ دهید:</p> <p>تایگا - توندرا - بیابان - جنگل های بارانی استوایی - ساوان</p> <p>- در آن فقط گیاهانی چون خزه و گل سنگ می توانند برویند</p> <p>- به داشتن جنگل های مخروطیان و سوزنی برگ ها معروفند</p> <p>- از نظر تنوع جانوری بسیار غنی است</p> <p>- از نظر پوشش گیاهی فقیرند و فقط درختان با بوته های خاردار دارند</p>	
۱	<p>الف: تنوع زیست بوم ها به چه عواملی بستگی دارد؟ (۴ مورد)</p> <p>ب: جنگل های استوایی چگونه بر آب و هوای کل سیاره زمین اثر می گذارد؟</p>	
۰/۵	<p>۱ - برای مجموعه کلمات زیر سوال طرح کنید.</p> <p>(ترافیک سنگین - آلودگی هوا - زاغه نشینی - افراد بی خانمان)</p>	فصل ۴
۱	<p>۲ - پاسخ سوالات زیر را در دو مورد بیان کنید.</p> <p>- نتایج رشد منفی جمعیت و</p> <p>- برنامه کشورها برای تشویق به فرزندآوری..... و</p>	
۱	<p>- عوامل خارجی چگونه می توانند باعث پایین بردن توسعه ی انسانی در یک کشور گردند؟ ۲ مورد</p>	

۰/۵	غ ص	در جنگ چالدران ایران به خاطر بی بهره بودن از سلاح های آتشین پیروز نشد.	۱	فصل ۵
۱		دلایل رونق تجارت در دوره صفوی را بنویسید:	۲	
۱		- دلایل ضعف و فروپاشی حکومت صفوی را در زمینه های زیر توضیح دهید: سیاسی : نظامی :	۳	
۰/۵		امیر کبیر وزیر کدام یک از شاهان قاجار بود؟ الف) مظفرالدین شاه ○ ب) محمدشاه ○ ج) ناصرالدین شاه ○ د) فتحعلی شاه ○	۱	فصل ۶
۱		عباس میرزا برای پیشرفت ایران چه کارهایی انجام داد؟ دو مورد	۲	
۱		از دو سوال زیر در رابطه با قرار داد گلستان به یک سوال به اختیار پاسخ دهید: الف : علت شکست ایران در دور اول جنگ های ایران و روس چه بود؟ ب: در قرار داد گلستان کدام مناطق کشورمان تحت حاکمیت روسیه قرار گرفت؟	۳	
		موفق باشید.		

		به نام خدا	
نام و نام خانوادگی:		اداره کل آموزش و پرورش استان.....	
شماره کلاسی:		اداره آموزش و پرورش منطقه/ناحیه.....	
نام دبیر:		دبیرستان دوره اول.....	
کلاس نهم:		ارزشیابی درس مطالعات اجتماعی	
تاریخ آزمون: / / ۹۵			
نوبت: آزمون اردیبهشت ۹۵			
وقت لازم: ۸۰ دقیقه			
تعداد صفحه: ۴ شماره ۷			
دانش آموزان عزیزه این آزمون دو بخش دارد: بخش الف (اجباری) در این بخش , لطفا به همه سوالات فصل ۷ تا ۱۲ کتاب پاسخ دهید. (۱۵ نمره)			
بارم	۲/۵	<p>۱- صحیح یا غلط بودن جملات زیر را مشخص کنید. (۵/نمره)</p> <p>الف) کودتای ۲۸ مرداد ۱۳۳۲ طبق برنامه کشورهای آمریکا و روسیه طراحی و اجرا شد. <input type="checkbox"/> صحیح <input type="checkbox"/> غلط</p> <p>ب) مهم ترین خواسته مردم هنگام مهاجرت به حرم حضرت عبدالعظیم تاسیس عدالتخانه بود. <input type="checkbox"/> صحیح <input type="checkbox"/> غلط</p> <p>۲- دو مورد از موانع و مشکلات حکومت مشروطه پساز پیروزی را بنویسید. (۱ نمره)</p> <p>۳- به سوالات زیر پاسخ دهید: (۱ نمره)</p> <p>الف) در زمان نخست وزیری وثوق الدوله این قرارداد بین ایران و انگلستان بسته شد.....</p> <p>ب) علت اعتراض و قیام مردم مشهد در مسجد گوهرشاد در زمان رضا شاه چه بود؟.....</p>	فصل ۷
بارم	۲/۵	<p>۱- علت قیام مردم قم در ۱۹ دیماه ۱۳۵۶ کدام گزینه زیر می باشد؟ (۵/نمره)</p> <p>الف) شهادت فرزند امام خمینی (ره) <input type="checkbox"/></p> <p>ب) قتل عام مردم در جمعه سیاه <input type="checkbox"/></p> <p>ج) مخالفت با کاپیتولاسیون <input type="checkbox"/></p> <p>د) اعتراض به مقاله توهین آمیز <input type="checkbox"/></p> <p>۲- سه عامل موثر در موفقیت انقلاب اسلامی ایران عبارتند از: ۱) (۷۵/)-..... ۲-..... ۳-.....</p> <p>۳- من کیستم؟ (۲۵/نمره).....</p> <p>من به همراه دکتر علی شریعتی با سخنرانی و نوشتن کتاب و مقاله و برگزاری کلاس های تفسیر قرآن و نهج البلاغه در مساجد هنگام مبارزه با حکومت پهلوی اسلام انقلابی را به جوانان معرفی کردیم.</p> <p>۴- علت مخالفت امام خمینی (ره) و سایر علما با اجرای اصول شش گانه (انقلاب سفید) چه بود؟ (۱ نمره)</p>	فصل ۸

۱- با توجه به متن یک هنجار، نماد و ارزش استخراج کنید. (۷۵/نمره)

۲/۵

در مراسم عید نوروز مردم با پوشیدن لباس های نو در پای سفره هفت سین و با خواندن دعای تحویل سال، نوروز را جشن می گیرند و به صله ارحام و دیدوبازدید اقوام می پردازند.

هنجار	نماد	ارزش

۲- عمده ترین عناصر هویت یک ملت کدامند؟ (۷۵/نمره) ۱- ۲- ۳-

۳- آیا ویژگیهای هویتی ما تغییر می کنند؟ با ذکر مثالی توضیح دهید. (۱ نمره).

ص ۱

۱- مهم ترین عاملی که موجب سازگاری و آرامش در خانواده می شود، کدام گزینه زیر است؟ (۵/نمره)

الف) داشتن تحصیلات بالا ب) انتخاب صحیح همسر ج) داشتن فرزند د) درآمد بیشتر

۲/۵

۲- دو مورد از کار کردهای خانواده عبارتند از: (۵/نمره) ۱- ۲-

۳- آیا صله ارحام تنها به دیدوبازدید خلاصه می شود؟ توضیح دهید. (۵/نمره)

۴- جدول زیر را در رابطه با ناسازگاری میان زن و شوهر کامل کنید. (۱ نمره)

یکی از علل ناسازگاری میان زن و شوهر	
یک راهکار برای جلوگیری از بروز ناسازگاری	

۱- تعیین سیاست های کلی نظام و نظارت بر حسن اجرای آن از وظایف قوه مجریه می باشد. (۲۵/صحیح غلط

۲- کلمه جمهوری در حکومت ما نشانه چیست؟ (۵/نمره)

۲/۵

۳- نصب، عزل و قبول استعفای چه کسانی از اختیارات وظایف رهبری می باشد؟ (۳ مورد) (۷۵/نمره)

۴- جدول زیر مربوط به تکالیف و حقوق شهروندی را کامل کنید. (۱ نمره)

تکالیف شهروندی	حقوق شهروندی
----------------	--------------

۲/۵	<p>۱- سه راهکار مهم برای افزایش بهره‌وری در زندگی را بنویسید. (۷۵/نمره)</p> <p>۱- ۲- ۳-</p> <p>۲- نمونه‌های از تفکر بهره‌وری در زندگی مردم در روزگار گذشته را بنویسید. (۳ مورد/۷۵/نمره)</p> <p>۲- به چه دلیل جمهوری اسلامی ایران بنا به توصیه‌ورهنمودهای مقام معظم رهبری سیاست اقتصاد مقاومتی را در پیش گرفته است؟ (۱ نمره)</p> <p>ص ۲</p>	فصل ۱۲	

بارم	<p>بخش ب - (اختیاری) در این بخش، لطفاً فقط دو فصل را از فصل‌های ۱ تا ۶ انتخاب کنید و به سوالات همان دو فصل پاسخ دهید. (۵ نمره)</p> <p>(دقت کنید به بیش از دو فصل پاسخ ندهید. زیرا در این صورت به ترتیب پاسخ‌های سوالات دو فصل تصحیح و بقیه حذف می‌شود.)</p>	فصل
------	--	-----

فصل ۱

به این بسته پاسخ می‌دهم



۱- در کدامیک از موارد زیر از ساعت واقعی استفاده می‌شود؟ (۵/نمره)
 الف) تعیین قرار ملاقات ب) برنامه حرکت هواپیماها ج) نماز خواندن د) ساعت کار ادارات
 ۲- اگر محور قطبها بر سطح مدار گردش انتقالی زمین مایل نبود، چه پیش می‌آمد؟ (نمره)

۳- جدول زیر را کامل کنید. (نمره)

نام دو سیاه منظمه شمسی	دو تفاوت سیارات درونی و بیرونی
-۱	-۱
-۲	-۲

۲/۵

فصل ۲

به این بسته پاسخ می‌دهم



۱- صحیح و غلط بودن جملات زیر را مشخص کنید. (۵/نمره)
 الف) لیتوسفر شامل گازهای است که دور تادور کره زمین را گرفته است. صحیح غلط
 ب) هر چه از سطح زمین بالاتر رویم فشار هوا کم می‌شود. صحیح غلط

۲- اهمیت فلات قاره از نظر.....و.....می باشد. (۵/نمره)
 ۳- پیامدهای ناخوشایند گرم شدن کره زمین را بنویسید. (۲مورد) (۵/نمره)

۴- به چه دلیل اقیانوس ها و دریاها موجب اعتدال دمای نواحی مجاور خود در زمستان و تابستان می شوند؟ (نمره)

۲/۵

فصل ۳

به این بسته پاسخ می‌دهم



۱- کدام عامل زیر مهم ترین و بیشترین تاثیر را در هرزیست بوم دارد؟ (۵/نمره)
 الف) ارتفاع زمین ب) جنس خاک ج) شکل ناهمواری ها د) آب و هوا
 ۲- هریک از ویژگی های زیر مربوط به کدام زیست بوم می باشد؟ (نمره)

(تایگا- جنگل های بارانی استوایی- ساوان- توندرا- بیابان)

الف- این زیست بوم دارای دو فصل خشک و مرطوب می باشد. ()
 ب) در این منطقه هوا همیشه گرم و میزان بارندگی سالیانه ۲۵۰۰ میلی متر است. ()
 ج) این ناحیه زمستان های طولانی دارد و سرمای هوا در آن بسیار شدید است. ()
 د) میزان بارندگی در این سرزمین کمتر از ۵۰ میلی متر است و تبخیر آب بسیار شدید می باشد. ()

۳- مهم ترین عوامل موثر در از بین رفتن پوشش گیاهی، نابودی گونه های جانوری و آلودگی آب و خاک زیستگاه ها را بنویسید. (۲مورد) (نمره)

۲/۵

	ص ۳							
۲/۵	<p>۱- شاخص های توسعه ی انسانی عبارتند از (۷۵/نمره) الف)..... (ب)..... (ج).....</p> <p>۲- سه مورد از علل و عوامل داخلی نابرابری کشوره با یکدیگر را بنویسید. (۷۵/نمره) الف)..... (ب)..... (ج).....</p> <p>۳- مهاجرت بعضی از مردم سوریه به اروپا از نوع اختیاری <input type="checkbox"/> یا اجباری <input type="checkbox"/> می باشد. زیرا؟ (نمره)</p>	<p>فصل ۴</p> <p>به این بسته پاسخ می دهم <input type="checkbox"/></p>						
۲/۵	<p>۱- کدام اقدام زیر مربوط شاه عباس اول صفوی می باشد؟ (۵/نمره) الف) انتقال پایتخت از قزوین به اصفهان ب) رسمی کردن مذهب شیعه ج) تاسیس سلسله صفویان د) تحکیم و تثبیت حکومت صفویان</p> <p>۲- یکی از عوامل موثر در برقراری رابطه میان ایران و اروپاییان در دوران صفویه چه بود؟ (نمره)</p> <p>۳- جدول زیر مربوط به اوضاع اجتماعی و اقتصادی صفویه را کامل کنید. (نمره)</p> <table border="1" data-bbox="224 1234 1383 1381"> <thead> <tr> <th>دومنع عمده درآمد حکومت</th> <th>دو عامل گسترش تجارت</th> </tr> </thead> <tbody> <tr> <td>-۱</td> <td>-۱</td> </tr> <tr> <td>-۲</td> <td>-۲</td> </tr> </tbody> </table>	دومنع عمده درآمد حکومت	دو عامل گسترش تجارت	-۱	-۱	-۲	-۲	<p>فصل ۵</p> <p>به این بسته پاسخ می دهم <input type="checkbox"/></p>
دومنع عمده درآمد حکومت	دو عامل گسترش تجارت							
-۱	-۱							
-۲	-۲							



- ۱-هریک از وقایع سمت چپ در زمان کدام پادشاه سمت راست اتفاق افتاده است. با خطی به یکدیگر مرتبط نمایید. (۱نمره)
- | | |
|--|------------------------|
| الف- نهضت تنباکو | ۱- آقامحمدخان قاجار |
| ب- دوران آسایش و آرامش کشور | ۲- نادرشاه افشار |
| ج- لشکر کشی به هندوستان | ۳- کریم خان زند |
| د- قتل عام مردم کرمان | ۴- ناصرالدین شاه قاجار |
| ه- نفوذ و دخالت روسها وانگلیسی ها در ایران | |

۲- براساس عهدنامه گلستان کدام ایالت ها از ایران جدا و تحت حاکمیت روسیه قرار گرفت؟ (۵/نمره)

۳- چرا عباس میرزا ولیعهد فتحعلی شاه قاجار به فکر نوسازی و اصلاح کشور افتاد؟ (۱نمره)